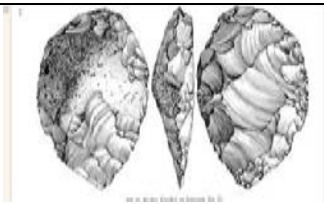





Und was war *hier* los?

Die Steinzeit, Jungsteinzeit, Bronze – und Eisenzeit in der Gegend um Hamburg

Natürlich gab es Hamburg in der Steinzeit noch nicht. Doch es gibt Spuren, die auf eine Besiedelung der Gegend seit vielen Jahrtausenden hinweisen.

Aufgabe 1. Kannst du die Funde der Archäologen den Beschreibungen zuordnen? Schreibe die Nummer des Textes hinter das passende Bild. (gN)

		NR.
1 Tasse aus der Jungsteinzeit. Schön verzierte Töpferwaren waren unter den ersten Bauern beliebt und wurden ihnen sogar in die Gräber mitgegeben.	 <p>Bild A</p>	
2 Aus Knochen gefertigtes Teil einer Harpune, das bei Meiendorf gefunden wurde. Sie stammt aus der mittleren Steinzeit. Eine vom archäologischen Museum Hamburg nachgebaute Harpune zeigt, wie der ganze Fischfangspieß aussah.	 <p>Bild B</p>	
3 Haarknotenfibel aus Bronze, entweder aus Hamburg-Lohbrügge oder Aumühle, um 1200 vor Chr. So konnten die Haare verziert und hochgesteckt werden.	 <p>Bild C</p>	
4 Vielfältige Grabbeigaben eines wohlhabenden Kriegers aus dem Landkreis Harburg. Er lebte im ersten Jahrhundert vor Christus. Hier sind Bronze-, Kupfer- und Eisengegenstände versammelt. Der Krieger hat vermutlich in der römischen Armee gedient.	 <p>Bild D</p>	

<p>5 Verschiedene Steinwerkzeuge aus der Jungsteinzeit: Speerspitzen, Beile, Ahlen und ein Fischeschwanzdolch.</p>	 <p>Bild E</p>	
<p>6 Dieser Faustkeil aus der Altsteinzeit wird von drei Seiten gezeigt. Er wurde in der Nähe von Maschen gefunden. Er war ein Allzweckwerkzeug zum Schneiden, Schaben und Graben.</p>	 <p>Bild F</p>	
<p>7 „Der älteste Hamburger“. Von ihm blieb nur ein Schädelstück übrig, das in der Elbe gefunden wurde. Es gehörte einem Menschen, der vor 7500 Jahren lebte, in der Mittelsteinzeit.</p>	 <p>Bild G</p>	
<p>8 Getöpferte Kochtöpfe sind schon seit der Mittelsteinzeit bekannt. Die sogenannten „Spitzbodengefäße“ konnten zwischen Steinen direkt in das Feuer gestellt werden. In diesen Töpfen wurden hauptsächlich Fischsuppen gekocht.</p>	 <p>¹ Bild H</p>	

Aufgabe 2. Ordne die Bilder den Epochen zu. Schreibe den passenden Bildbuchstaben unter den Epochennamen in die Tabelle. (gN)

Altsteinzeit	Mittelsteinzeit			Jungsteinzeit		Bronzezeit	Eisenzeit

¹ Abbildungsangaben siehe <https://geschichtsbuch.hamburg.de/epochen/vor-und-fruehgeschichte/>

Aufgabe 3. (eN)

Schreibe einen Text über die Funde. Folgende Begriffe müssen darin vorkommen:

**Jäger und Sammler Faustkeil Waffen Römer „Ältester
Hamburger“ Tongefäße Bauern Bronze Schmuck
Altsteinzeit Mittelsteinzeit Jungsteinzeit Bronzezeit
Eisenzeit Werkzeuge Fische Waffen.**